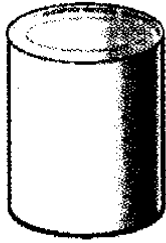


ใบงานที่ 3 เรื่อง รูปเรขาคณิตสามมิติ

ชื่อ.....ชั้น.....เลขที่.....

คำสั่ง ให้นักเรียนบอกสิ่งของต่อไปนี้มีลักษณะใกล้เคียงกับรูปเรขาคณิตสามมิติใด

(1)



กระป๋อง

(2)



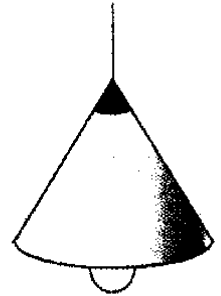
กล่อง

(3)




ลูกบอล

(4)



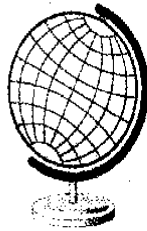
โคมไฟ

(5)



ปี๊บ

(6)



ลูกโลก

(7)



ลูกเต๋า

(8)




กระบอกข้าวหลาม

(9)



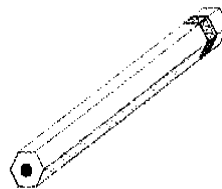
ทีเสไอศกรีม

(10)



ส้ม

(11)



ดินสอ

(12)



เงินเหรียญ

